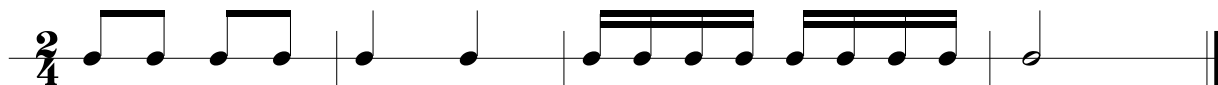


RYTMIKA KL. 1 - odpowiedzi do zestawu nr 1

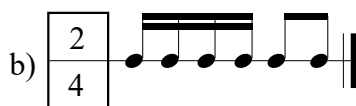
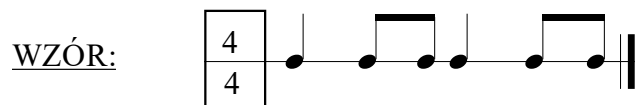
1. Postaw kreski taktowe we właściwym miejscu aby każdy takt liczył się na dwa $\left(\frac{2}{4}\right)$



2. Dopisz wartości rytmiczne aby każdy takt liczył się na trzy $\left(\frac{3}{4}\right)$. Przykładowe rozwiązanie:



3. Określ metrum: $\frac{2}{4}$, $\frac{3}{4}$ lub $\frac{4}{4}$



4. Napisz swój temat rytmiczny w takcie $\frac{4}{4}$. Przykładowe rozwiązanie:

