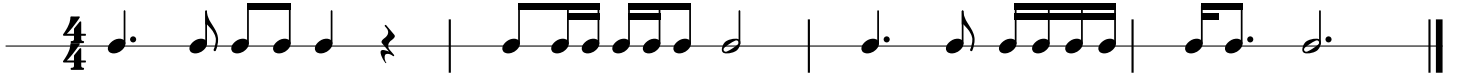


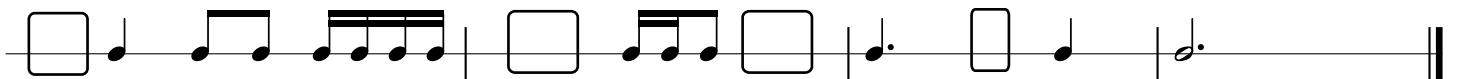
# Rytmika Kl. 2

zestaw ćwiczeń nr 4

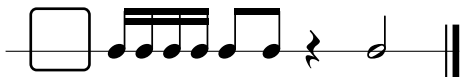
1) W tym ćwiczeniu skreśl całe takty, które nie liczą się na  $\frac{4}{4}$



2) Czego brakuje w tym temacie rytmicznym? Oznaczenia taktowego i kilku nut. Uzupełnij je.



3) W ramki wpisz oznaczenie taktowe  $\frac{5}{4}$   $\frac{3}{4}$   $\frac{2}{4}$



4) Ułóż własny temat rytmiczny na  $\frac{6}{4}$  ( $\frac{3}{4} + \frac{3}{4}$ )

1 2 3 4 5 6 1 2 3 4 5 6

