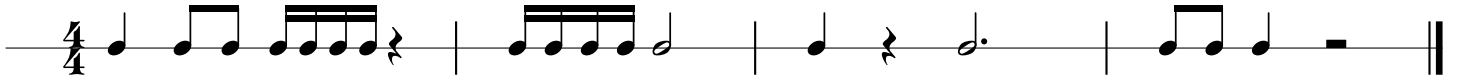


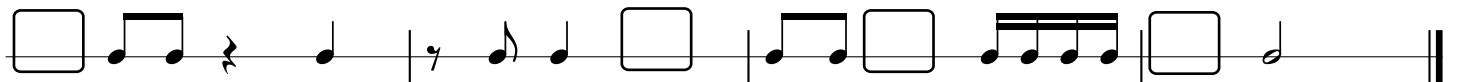
# Rytmika Kl.1

zestaw ćwiczeń nr 4

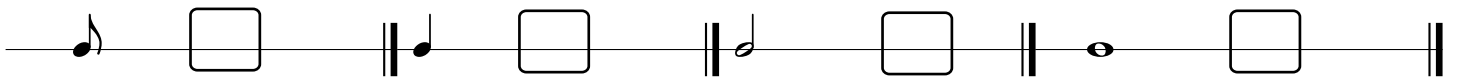
1) W tym ćwiczeniu skreśl całe takty, które nie liczą się na  $\frac{4}{4}$



2) Czego w tym temacie brakuje ? Oznaczenia metrycznego oraz niektórych nut. Uzupełnij je.



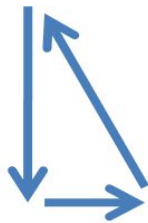
3) Powtarzamy pauzy. W ramki wpisz pauzę, która odpowiada zapisanej wartości rytmicznej.



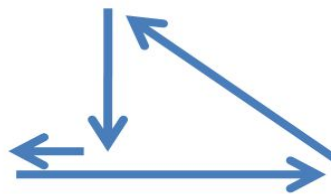
4) Przypomnij sobie jak taktujemy na zajęciach rytmiki. W kolejnym zestawie ćwiczeń to zagadnienie się pojawi.



**2**  
**4**



**3**  
**4**



**4**  
**4**