

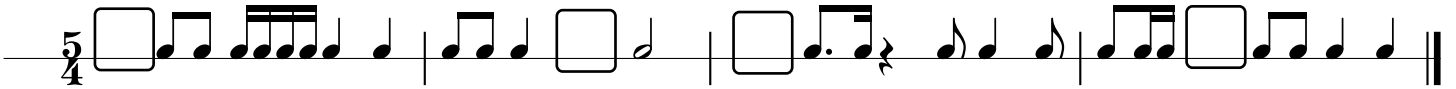
Rytmika kl. 3

zestaw ćwiczeń nr 3

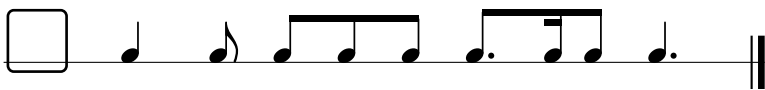
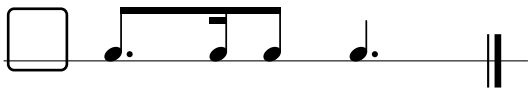
1) Postaw kreski taktowe w odpowiednim miejscu aby każdy takt liczył się na $\frac{6}{8}$



2) Dopisz wartość rytmiczną lub grupę aby każdy takt liczył się na $\frac{5}{4}$



3) Określ metrum $\frac{12}{8}$ $\frac{9}{8}$ $\frac{6}{8}$



4) Skreśl niepotrzebne nuty aby każdy takt liczył się na $\frac{3}{4}$

