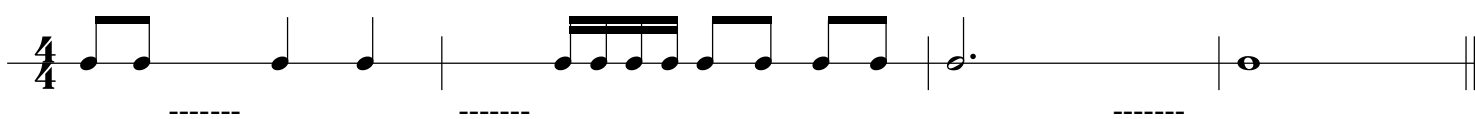


RYTMIKA KL. 1 - zestaw ćwiczeń nr 2

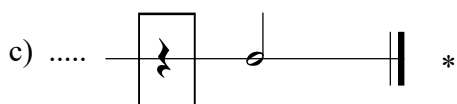
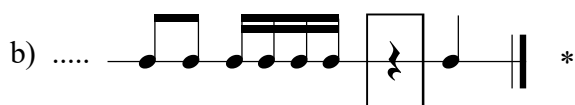
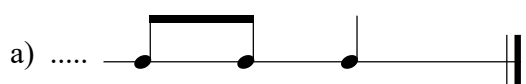
1. Postaw kreski taktowe we właściwym miejscu aby każdy takt liczył się na $\frac{3}{4}$.



2. Dopisz wartości rytmiczne aby każdy takt liczył się na $\frac{4}{4}$.



3. Określ metrum: $\frac{2}{4}$, $\frac{3}{4}$ lub $\frac{4}{4}$



4. Napisz swój temat rytmiczny z pauzą ćwierćnutową ♩ .

1 i 2 i 3 i 1 i 2 i 3 i



* PAUZA - znak ciszy w muzyce.

W razie wątpliwości sprawdź w podręczniku "Nasza muzyka 1", str. 71.